

1. Bu testte 60 soru vardır.

2. Cevaplarınızı, cevap kâğıdının Genel Yetenek Testi için ayrılan kısmına işaretleyiniz.

1. Üniversite yıllarında çok sevdiğim bir hocam, Aziz Nesin için yazılmış bir kitaba atıfta bulunmuş ve "Gözyaşını gülmeceye dönüştüren bir simyacı." demişti. Pek değerli hocam, bu tanımın sinemadaki yansıması olarak da Charlie Chaplin'i gösterirdi.

Bu parçada altı çizili sözle anlatılmak istenen aşağıdakilerden hangisidir?

- A) Kendisinin ve toplumun acılarını gülmeceye dönüştürmesi
- B) İnsanı acılarından uzak tutan tek varlığın mizah olması
- C) Yaşamda hem acı ve kederin hem de neşenin var olması
- D) İnsanın çektiği her acıdan bir mizah ögesi çıkarması
- E) Mizah içeren anlatımın acıyı anlatmaktan daha zor olması

2. Sadece bugün değil, geçmişten beri vicdanları sızlatan bir durum var: Liyakat sahibi olmayanların adam yokluğunda makam mevki sahibi olmaları. İşin kötü yanı bu makamlara, mevkilere gelmelerinde kendilerini layık görmeleri. Eninde sonunda beceriksizlikleri ortaya çıksa da "Ben buralara ne emeklerle geldim." diye konuşurlar. İşin ehli olanlar da bir köşede hayata küskün otururlar.

Aşağıdaki atasözlerinden hangisi bu parçada eleştirilen kişiler için söylenebilir?

- A) Adam adamdır olmasa da pulu, eşek eşektir atlasan olsa çulu.
- B) Abdal ata binince bey oldum sanır, şalgam aşarınca yağ oldum sanır.
- C) Akıllı oğlan neyler ata malını, akılsız oğlan neyler ata malını.
- D) At, adımına göre değil, adamına göre yürür.
- E) Ata malı mal olmaz, kendin kazanmak gerek.

3. Edebiyatın; dilin kendisinden başka anavatanı yoktur.

Aşağıdakilerden hangisi bu cümlede dile getirilen düşünceyle çelişir?

- A) Edebiyatta dil bir araçtır, amaç değil.
- B) Edebiyat varlığını temel malzemesi olan dile borçludur.
- C) Hangi konuda yazarsanız yazın, dile muhtaç durumdasınız.
- D) Bir ressam için boya ne ise şair için de dil odur.
- E) Yazarın neyi, nasıl, özellikle hangi dille yazdığıyla değerlendirilir.

TIKLAYIN:

facebook:

Kpss Doküman Arşivi

Kpss Kaynak Arşivi

4. (I) Küreselleşme ile yeni tatlar, farklı yemekler daha fazla hayatımıza giriyor. (II) Bu, damak zevkini artırmıyor ama zenginleştirdiği bir gerçek. (III) Alıştıklarımızdan farklı şeyler yemeye daha açık bir toplum oluyoruz. (IV) Bu durumun yemek programlarının televizyonda bir şov programı formatında sunulmaya başlamasıyla da ilgili olduğunu düşünüyorum. (V) Başarılı bir aşçı biraz da kamera önü becerisi varsa kolayca bir televizyon yıldızı hâline gelebiliyor.

Bu parçada numaralanmış cümlelerin hangisinde koşul ilişkisi vardır?

- A) I. B) II. C) III. D) IV. E) V.

5.

- I. Yazarlar bu tartışmalarda genellikle taşra olgusuna kendi dünya görüşlerinin penceresinden bakarlara ve güncel duruma ya cevaplar arar ya da cevaplar verirler.
- II. Bunların bazıları merkezin penceresinden bakan şehirli yazarlardır; taşradan gelen, taşradan yükselen talepleri egemen söylemi kullanmaya özen göstererek ya yerer ya da "yüce gönüllülükle" taşrayı kabul ederler.
- III. Bu cümlelerin büyük bölümünde güncel tartışmaların izleri görülebilmektedir.
- IV. Bugüne değin şiir ve taşra sözcüklerinin birlikte kullanıldığı cümlelerin sayısı fazla olmamıştır.
- V. Birkaç cümleyle taşrada doğum, görev, tayin ya da gezi gibi vesilelerle "geçmiş" günlerini anarak bir empati geliştirirler.

Yukarıdaki numaralanmış cümlelerle anlamlı bir bütün oluşturulmak istense baştan üçüncü cümle aşağıdakilerden hangisi olur?

- A) I. B) II. C) III. D) IV. E) V.

6. (I) Gebeliğin son aylarında annenin kanındaki ve beyindeki düzeyi zirve yapan bir hormon olan oksitosin, doğum için gereken rahim kasılmalarını sağlama ve anne memesinden süt salgılatma gibi fiziki işlevlerin yanı sıra anne ile bebek arasındaki ilişkinin oluşmasında rol oynar. (II) Doğum sonrasında annede oksitosin düzeyi arttığı ölçüde ana davranışlar tırmanır. (III) Zaman içerisinde oksitosin düzeyinin inişe geçmesiyle beraber ilişkinin yıkama, yedirme, uyutma kısmı yerini konuşmaya, oynamaya terk eder. (IV) İlk 24 ayın bir başka çarpıcı yanı ise bebeğe duyulan hayranlıktır. (V) Anneler dünyaya gözlerini yeni açmış ve genellikle muşmula suratlı bebeklerinden hayranlıkla bahseder.

Bu parçada numaralanmış cümlelerin hangisinden sonra "Bu süreç 18 - 24 ay kadar devam eder." cümlesi getirilebilir?

- A) I. B) II. C) III. D) IV. E) V.

7. (I) Edebiyat tarihinde, bırakın geçim derdini, yazma uğruna açlık içinde hayata gözlerini yuman yazarlarla bile karşılaşıyoruz. (II) Öykü türünün ilk uygulayıcıları arasında sayılan Edgar Allan Poe'nun bugünkü popülaritesine karşın cebinde beş kuruş olmadan hayata gözlerini yumduğunu kaçımız biliyor? (III) İlk eseri Typee ile tanınmaya başlayan ve Moby Dick ile saygıyla andığımız Herman Melville'in hayata veda ederken meteliğe kurşun attığına... (IV) Günümüzde en çok kazanan yazarlardan biri olarak anılan J. K. Rowling'in yazarlık yaşamının ilk yıllarında yaşadığı zorluklar akla zarardır. (V) Bunlar bizi ister istemez yazarın kazancı üzerinde düşünmeye itiyor.

Bu parçada numaralanmış cümlelerin hangisinde "de" bağlacının yazımıyla ilgili bir yanlışlık yapılmıştır?

- A) I. B) II. C) III. D) IV. E) V.

8. Modern Türkçe şiirin geçmişinde önemli ve rolü büyük olmuş () tarihe derin izler bırakarak geçmiş dergiler var () Birçok öncü şair () bu dergiler aracılığıyla çıkış yapabilmış () okur oluşturabilmiş ve onlara ulaşabilmiştir ()

Bu parçada parantezle () belirtilen yerlere, aşağıdaki noktalama işaretlerinden hangisi sırasıyla getirilmelidir?

- A) (,) (,) (,) (;) (,)
B) (,) (;) (,) (,) (,)
C) (;) (,) (;) (,) (,)
D) (;) (,) (,) (,) (...)
E) (,) (,) (,) (...) (,)

9. "Yalnız" sözcüğü aşağıdaki cümlelerin hangisinde, "Hava güzel yalnız biraz rüzgâr var." cümlesindekiyle aynı türde kullanılmıştır?

- A) Yalnız bu köyde şeker pancarı ekiliyor.
B) Çok uğraştı yalnız paslı musluğu sökemedi.
C) Toplantıya ekibiyle gelirdi, bu kez yalnızdı.
D) Kutup ayları yalnız yaşayan hayvanlardır.
E) Bazı işletmelerde yalnız bir kişi çalışıyor.

10. Yeterlik birleşik eylemlerinin olumsuz yapılrken cümleye kesinlik anlamı vermek için "bilmek" eylemi düşer.

Aşağıdaki cümlelerin hangisinde bu açıklamaya örnek olabilecek bir kullanım vardır?

- A) Bu sabah hava rüzgârlı, yüzmeye gidemem.
B) Körfez sadece iş birliği yapılarak temizlenemeyebilir.
C) Her akşam size uğramam mümkün olmayabilir.
D) Sıcaklardan dolayı ürünler tarladan toplanmayabilir.
E) Elektrik hatları gözden geçirilmezse yangın önlenemeyebilir.

11. Ek eylemler ya basit çekimli eylemleri birleşik çekimli eylem durumuna getirir ya da adların ve ad soylu sözcüklerin yüklem görevinde kullanılmasını sağlar.

Aşağıdaki cümlelerin hangisinde altı çizili sözcükte ek eylem kullanılmamıştır?

- A) Bu arsayla ilgili ilginç planları varmış.
B) Yıldızlar ki gökyüzünde hep yalnızdır.
C) Bulutlar yavaş yavaş batıya aktı.
D) Ekinler temmuza kadar yeşermemişti.
E) Yoğurt yaptıysa iki kaşık da ben yiyeyim.

12. (I) Aşık olmak, insanın yaşadığını gösteren tek şey. (II) O kadar önemli ki... (III) Artık tek başınıza değilsiniz. (IV) Aşk, doğaya karşı bir şeydir. (V) Şair olarak ben hep doğaya karşı olmak istiyorum.

Bu parçadaki numaralanmış cümlelerle ilgili aşağıda verilenlerden hangisi yanlıştır?

- A) I. cümle kurallı, isim cümlesi ve yapıcı birleşiktir.
B) II. cümle yapıcı eksilteli cümledir.
C) III. cümlelerin öğeleri "Zarf tümleci - Dolaylı tümleç - Yüklem" biçimindedir.
D) IV. cümle basit yapı, kurallı ve isim cümlesidir.
E) V. cümle yapıcı girişlik birleşik cümledir.

13. Yeryüzünde gerçek mutluluk; insanın mesleğini özgürce yapabileceği, düşüncelerini özgürce sanatına yansıtabileceği bir konumda yaşamaktır.

Bu cümleyle ilgili aşağıda verilenlerden hangisi yanlıştır?

- A) Yapı bakımından girişlik birleşik cümledir.
B) Yüklemnin sözcük türüne göre fiil cümlesidir.
C) Cümlede birden çok yan cümle vardır.
D) Yüklemnin yerine göre kurallı cümledir.
E) Cümle anlamına göre olumlu bir cümledir.

14. Toplu taşıma araçlarında kitap okuyan insan sıradan bir kitap okuru değildir; çoğu insanın gözünde bir gelişmişlik figürüdür, her kitapseverin gönlünü çelen bir de-taydır, toplu taşımaya bir başka hava, bir dinginlik ka-tar. Üstelik insanların ne okuduğundan okuma tavırlarına, inip bindikleri duraklara kadar pek çok yorum ge-çer aklınızdan; toplu taşımada kitap okuyan insan me-rakınızı çeker. Kısacası; gergin, rahatsız, dalgın surat-lardansa herkesin, özellikle de kitapseverlerin tercihidir toplu taşımada kitap okuyan insanlar görmek.

Bu parçadan toplu taşımada kitap okuyanlar ve ki-tap-severlerle ilgili olarak aşağıdakilerden hangisi-ne ulaşamaz?

- A) Kitap okuyanların kitapseverler arasında farklı bir yeri olduğuna
B) Kitap okuyan insanlara sıkça rastlanmadığına
C) Kitap okuyanlarla gelişmişlik düzeyi arasında bağ-lantı kurulduğuna
D) Kitap okuyanlarla ilgili çeşitli çıkarımlar yapıldığına
E) Kitap okuyanları görmenin asık suratlı insanları görmeye tercih edildiğine

15. Zihinsel programlarımız hayatta kalma amacına yö-nelik genetik kodlamalardır. Beynimizin bazı bölümleri bizi ani tehlikelere karşı uyarır. Bu alarm sistemi bize "saldır ya da kaç" komutu vererek hayatta kalmaya yö-neltir. Bu normal işleyiş, strese karşı verilen yanlış ko-mutlarla "nedeni belli olmayan kaygı" durumuna dönü-şür. Bu kaygı, başta artık bir ruhsal bozukluk biçimini alır ve kişinin yaşam sürecini zorlaştırır. - - -

Bu parçanın sonuna anlatımın akışına göre;

- I. Kişi tedirgin, huzursuz bir duruma girer.
II. İnsan gerginlik içinde, her an kötü bir şey olacak-mış duygusuyla yaşar.
III. İnsan kaygılarıyla yaşamaya alışmalıdır.

yargılarından hangileri getirilebilir?

- A) Yalnız I B) Yalnız II C) Yalnız III
D) I ve II E) II ve III

16. Antik Yunan kentlerini yıkıp yakan Kimmerler, Anadolu'daki tüm krallıklar için küçük çaplı felaket görünümünde, yaklaşık iki yüz yıl boyunca büyük bir yıkım yaratmıştı. Kuzeydoğu Anadolu'da ve Hazar bölgesinde İskit akınları nedeniyle zayıflamalarının ardından, MÖ 6. yüzyılda Lidya Kralı Alyattes Kimmerleri büyük bir yenilgiye uğrattı. Bu büyük çöküşün ardından Kimmerler tarihteki yerlerini yitirdi, efsaneler ve hikâyeler de sona ermiş oldu.

Bu parçadan Kimmerler ile ilgili aşağıdaki yargılardan hangisine kesin olarak ulaşılabilir?

- A) Güçlerini ilk kez Antik Yunan kentlerini yıkarak göstermişlerdir.
- B) Anadolu'daki kimi krallıkların egemenliğine son verdiklerine
- C) Haklarındaki bilgilerin efsaneler ve hikâyelerden alındığına
- D) Yok oluşlarının başlangıcının İskit akınlarına dayandığına
- E) Lidyalıların Anadolu krallıklarını egemenliği altına aldığına

17. The Doors'un solisti Jim Morrison, sinema mezunudur. Bir kitabında "Sinema röntgenciliktir." der. Bu çok etkiliydi beni genç yaşında. Bana göre sinema ya da roman, öykü ile uğraşmak; kurgu dahi olsa başka insanların hayatlarını gözlemlemek ya da onun üstünden bir şey üretmek, bir model yaratmak üstüne kuruludur. Oysa şiir, aynı kelimelerle farklı şiirler yaratmaktır. Yaptığımız şiir atölyelerinde de bunu görüyorum. Otuz insan varsa aynı kelimelerle otuz ayrı şiir çıkıyor. Bu bana aynı şeyler üstünde yürüsek dahi bakış açılarımızın, algılarımızın kelimeler üzerinde ne kadar farklılık gösterebileceğini düşündürüyor.

Bu parçanın anlatımıyla ilgili aşağıdakilerden hangisi söylenemez?

- A) Karşılaştırmaya yer verilmiştir.
- B) Alıntıya başvurulmuştur.
- C) Örneklemeye yer verilmiştir.
- D) Öznel yargılara yer verilmiştir.
- E) Tanımlama yapılmıştır.

18. Tarihin bize gösterdiği çok şey var, bunlardan biri de uzlaşan aklın çatışan öfkeyi her zaman yenmesidir. Her savaş, sonunda barışla bitmiştir; her zaman doğrular, hataları düzeltmiştir; her zaman adalet, toplumlar da yerini almıştır. Ne var ki bu arada beklenmedik felaketler de yaşanmıştır. Kanlar akmış, acılar gözyaşları olmuştur; kentler, kasabalar yakılıp yıkılmıştır; nice can gitmiş, nice ocak sönmüştür. - - -

Bu parçanın sonuna anlatımın akışına göre;

- I. Uzlaşan akıl öfkeyi yenene kadar insanlar öfkenin bedelini ağır ödemiştir.
- II. Her kötülüğün bir iyilik karşılığı olduğu akıldan çıkarılmamalıdır.
- III. Tarihin iyi bilinmesi gerektiği akıldan çıkarılmamalıdır.

yargılarından hangileri getirilmelidir?

- A) Yalnız I
- B) Yalnız II
- C) Yalnız III
- D) I ve II
- E) II ve III

19. Turizm sektörü her zamanki gibi yerli ve yabancı turist sayılarıyla parlatılıyor. Turistik yaşam; sahte Topkapı, Kremlin, Venedik mimarili, su kaydıraklı, animasyonlu tatil köyleri, gece kulüplerine terk edilmiş kıyıları, mavi Ege ve Akdeniz koylarını dümtük dümtük sözde müzikle ve olmazsa olmaz çöple kirleten tur tekneleriyle varlığını sürdürüyor. Bu yaz da bu sahte cennetlerin zevki coşkuyla kutlanıyor. Bu kutlama her şeyden önce kentlerin amansız girişimcilerince gösteri toplumunun talepleri doğrultusunda şekillendiriliyor. Bu talep derin bir bilgi, bellek, zevk boşluğu üstüne yapılıyor. Tatilcilerin salt anlık zevklere ve tüketime kenetlenmiş gündeminde ne yazık ki yerel tarihsel ve kültürel bellek ve dokuların anlamı yok.

Bu parçada aşağıdakilerden hangisine değinilmemiştir?

- A) Turizm merkezlerinin taklit yapılaşmayla dolduğuna
- B) Turizm adına çevre kirliliği yaratıldığına
- C) Turistlerin hızlı tüketim ve keyif odaklı tatil yaptıklarına
- D) Tatil yönteminin girişimcilerin yönlendirmesiyle biçimlendirildiğine
- E) Tatilcilerin tarihî ve kültürel varlıklarla ilgili olmadıklarına

20. Seyahatlerimde, hangi şehre gittiysem o şehirde yaşamış yazarların, sanatçıların, düşünürlerin evlerini keşfetmek, yaşamlarının bir parçasına aynı merdivenleri çıkarak yahut aynı bahçede dolaşarak dokunmak, beni cezbeder. Benimle sadece metinleri aracılığıyla konuşabilen ölümlerle o çok sevdikleri ağaçların altında oturur, bir vakit sonra metinden taşan seslerini duyar ve onları görür, o evde yaşadıklarına ilişkin onlarla konuşmaya başlarım. Eve dönüşlerimde bunları kayda geçirdikçe yeni bir seyahatin de amacı doğmuş olur önümde.

Bu parçadan aşağıdakilerden hangisine ulaşmaz?

- A) Her seyahatin başka bir seyahate zemin hazırladığına
- B) Yazarların yaşam alanlarında metinlerin izlerinin sürüldüğüne
- C) Yazarların yaşadığı mekânlarda dolaşmanın ilgi çekici olduğuna
- D) Metinlerden yola çıkılarak mekânlarda yaşananların düşünüldüğüne
- E) Yazar ve sanatçıların mekânlarını görmenin tek amaç olduğuna

21. Kentlerimiz hızla olduğu kadar acımasızca da değişiyor. Dün yaşadığımız yerleri, bugün geriye bıraktığımız zaman yerinde göremiyoruz. Bir kasırgadır sökülüp savuruyor anılarımızı. Bir başka açıdan ürkütücü bir savurganlık bu. Hele bizim gibi, ekonomisi bir türlü derlenip toparlanamamış, bir yığın sorunu arasında konut sorununu da çözememiş bir toplum için. Kentlerimizi çepeçevre, insanca yaşamakla bir arada düşünölemeyecek ilkelikte binlerce gecekondlu kuşatırken yapılmaları yirmi otuz yılı doldurmamış, her biri kırk elli gecekondlu ailesi barındırabilecek sağlam, betonarme yapılar yerle bir ediliyor. Kentleşme hızının her kanşını, altın ettiği arsalar üstünde gökde-len yapılar çıkılıyor.

Bu parçanın konusu aşağıdakilerden hangisidir?

- A) Hızlı kentleşmenin getirdiği olumsuzluklar
- B) Kentlerdeki gecekondlu dokusunun yok olması
- C) Kentleşmenin çevre kirliliğine yol açması
- D) Betonlaşmanın kent kimliğini yok etmesi
- E) Modern kentlerin oluşumu

22. - 24. soruları aşağıdaki parçaya göre cevaplayınız.

(I) Çocuğum düşünmeden hareket ediyor, eşyaların üstüne tırmanıyor, hızla bir aktiviteden diğerine geçiyor, başladığı işi bitiremiyor... (II) Oyunda sırasını beklemiyor, hemen hırçınlaşıyor, dikkati de kolay dağılıyor; arkadaşlarına göre daha sakar, daha unutkan, eşyalarını kaybediyor... (III) Her çocukta bu belirtilerin bir kısmı zaman zaman görülebilir. (IV) Bu davranışların varlığını bir sorun olarak görsek de onun hiperaktif tanısı alacak nitelikte bir problemi olduğunu göstermeye yetmez. (V) Ancak bu davranışlar ısrarla devam ediyorsa, yaygınlaşıyorsa, öğrenme ve sosyal uyumunu engelleyici etki gösteriyorsa uzman değerlendirmesi o noktada gerekir. (VI) Araştırmalar, dikkat eksikliği ve hiperaktivite bozukluğunun çocuklarda görülme sıklığının % 7, erişkinlerde ise % 4 olduğunu gösteriyor.

22. Bu parçada numaralanmış cümlelerden hangisi anlatımın akışını bozmuştur?

- A) II. B) III. C) IV. D) V. E) VI.

23. Bu parçada aşağıdakilerden hangisine değinilmemiştir?

- A) Dikkat eksikliği ve hiperaktivitenin yetişkinlerde görülme sıklığının çocuklara göre daha az olduğuna
- B) Ailelerin dikkat dağınıklığı ve hiperaktivite konusunda bilinçlendirilmesi gerektiğine
- C) Hareketli olmanın, sorun olacak davranışlar göstermenin hiperaktif tanısı için yeterli olmadığına
- D) Hiperaktivite ve dikkat dağınıklığı konusunda uzman görüşüne ihtiyaç olduğuna
- E) Kimi çocukların arkadaşlarına göre daha dikkatsiz ve unutkan olduğuna

24. Bu parçada numaralanmış cümlelerle ilgili aşağıdakilerden hangisi söylenemez?

- A) I. ve II. cümlelerde sayıp dökmelere yer verilmiştir.
- B) II. cümlede karşılaştırmaya yer verilmiştir.
- C) IV. ve V. cümlelerde koşullu yargılar vardır.
- D) VI. cümlede sayısal veriye başvurulmuştur.
- E) III. ve IV. cümleler arasında neden sonuç ilişkisi vardır.

25. - 26. soruları aşağıdaki parçaya göre cevaplayınız.

(I) Google verilerine göre; Türkiye, sosyal medya kullanımında dünyanın önde gelen ülkelerinden birisi. (II) Herkesin söyleyecek bir sözü olduğunu görmek için ayrı bir araştırma yapmaya gerek yok. (III) Bir etikete bastığınızda en bilgisizinden en bilgisizine, "trollünden" kinayecisine yüzlerce, binlerce kişinin çoğu zaman düşünmeden yazdığını, kimi zaman da sadece siyasi partisinin ya da çevresinin düşüncelerini aynen yansıttıklarını görürsünüz. (IV) Hele ki bir tartışma meydana olduğunda siyasi görüşünüz her neyse diğer tarafın "bunca gerçeği nasıl göremediğine" şaşarsınız. (V) Evrensel bazı doğruları bir kenara bırakırsak bunca gerçeği görmeyenin siz mi yoksa karşı taraf mı olduğunu kestirmenin gerçek bir yolu yoktur ama kişilerin çok açık karşı argümanlar karşısında bile saçmalamakta ısrarcı olduklarına tanık olabilirsiniz.

25. Bu parçaya göre, Türkiye'de sosyal medya kullanımıyla ilgili olarak;

- I. Siyasi partiler propaganda amacıyla sosyal medyayı etkin olarak kullanırlar.
- II. Başkalarının farklı düşüncelerini şaşkınlıkla karşılayan insanlar vardır.
- III. Türkiye sosyal medya araçlarını amacına uygun kullanmayan başlıca ülkelerdendir.

yargılarından hangilerine ulaşılabilir?

- A) Yalnız I
- B) Yalnız II
- C) Yalnız III
- D) I ve II
- E) II ve III

26. Bu parçada numaralanmış cümlelerle ilgili aşağıdakilerden hangisi söylenemez?

- A) I. cümlede bir belirleme yapılmıştır.
- B) II. cümlede amaç ilişkisi vardır.
- C) III. cümlede karşılaştırmaya yer verilmiştir.
- D) IV. cümlede neden sonuç ilişkisi vardır.
- E) V. cümlede koşula bağlılık söz konusudur.

27. - 30. soruları aşağıdaki bilgilere göre cevaplayınız.

Ayla, Barış, Cenk, Demet ve Ersin adlı sürücüler aynı araç muayene istasyonundan araçlarını muayene ettirmek için randevu almışlardır. Araçlar; Fiat, Renault, Toyota, Audi ve BMW markadır. Randevular aynı gün içerisinde saat 13.50, 14.10, 14.20, 14.30 ve 14.50'de alınmıştır.

Bu kişilerle ilgili olarak ayrıca şunlar bilinmektedir:

- * Cenk ile Ersin araçlarını 30 dakika arayla muayene ettirmiştir.
- * Ersin bir kadın sürücüdür. Hemen önce, Audi marka bir araçtan hemen sonra aracını muayene ettirmiştir.
- * İki kadın sürücü peşpeşe araçlarını muayene ettirmemiştir.
- * Fiat ile Renault marka araçların sahipleri aynı cinsiyettedir ve biri diğerinden 40 dakika sonra aracını muayene ettirmiştir.
- * Barış, Demet'ten hemen sonra aracını muayene ettirmiştir.

27. Barış'ın aracı hangi markadır?

- A) Fiat
- B) Renault
- C) Audi
- D) Toyota
- E) BMW

28. Saat 14.50'de aracını muayene ettiren kimdir?

- A) Ayla
- B) Barış
- C) Cenk
- D) Demet
- E) Ersin

29. Ayla için;

- I. Ersin'den daha sonra aracını muayene ettirmiştir.
- II. Fiat marka aracın sahibidir.
- III. BMW marka aracın sahibidir.

ifadelerinden hangileri kesinlikle doğrudur?

- A) Yalnız I
- B) Yalnız II
- C) Yalnız III
- D) I ve II
- E) I ve III

30. Verilen bilgilerden, aşağıdakilerden hangisi çıkarılamaz?

- A) Saat 14:10 kimin aracını muayene ettirdiği
- B) Ayla'dan sonra kimin aracını muayene ettirdiği
- C) Fiat marka aracın kime ait olduğu
- D) Erkek sürücülerden birinin aracının BMW marka olduğu
- E) Kadın sürücülerden birinin aracının Renault marka olduğu

31.
$$\frac{\frac{1}{3} + \frac{11}{33} + \frac{111}{333}}{\frac{3}{5} + \frac{33}{55} + \frac{333}{555}}$$

işleminin sonucu kaçtır?

- A) $\frac{1}{3}$
- B) $\frac{4}{9}$
- C) $\frac{5}{9}$
- D) $\frac{2}{3}$
- E) 1

32.
$$\left(4 - 0,3 : 0,1 + \frac{1}{5}\right) \cdot \frac{0,7}{0,35}$$

işleminin sonucu kaçtır?

- A) 1,2
- B) 1,5
- C) 1,8
- D) 2,4
- E) 3

33.
$$\frac{1}{x+y} + \frac{3}{x-y} = \frac{7}{4}$$

$$\frac{3}{x+y} - \frac{5}{x-y} = -\frac{7}{4}$$

denkleminde x.y çarpımı kaçtır?

- A) 2
- B) 3
- C) 4
- D) 5
- E) 6

34. Eni 60 metre, boyu 72 metre olan dikdörtgen şeklindeki bir bahçe, kare şeklinde eş parsellere ayrılıyor ve parsellerin köşelerine birer adet fidan dikiliyor.

Buna göre, en az kaç fidan gereklidir?

- A) 32
- B) 36
- C) 40
- D) 42
- E) 48

35.
$$\frac{(n-3)!}{(n+2)!} + \frac{4}{(3-n)!}$$

işleminin sonucu kaçtır?

- A) $\frac{481}{120}$
- B) 4
- C) $\frac{479}{120}$
- D) $\frac{47}{12}$
- E) 3

36.

$$\begin{array}{r} \cdot \cdot \cdot \cdot \\ \cdot \cdot \cdot \cdot \\ \hline + 315 \\ \hline 41 \end{array}$$

Yandaki bölme işleminde her nokta bir rakam göstermektedir.

Buna göre, bölünen sayı kaçtır?

- A) 3848 B) 3900 C) 3915
D) 3928 E) 3956

37.

$$\frac{|x-4|-8}{|x+4|+8} \geq 0$$

eşitsizliğini sağlayan x tam sayı değerlerinin toplamı kaçtır?

- A) 62 B) 30 C) 0 D) -32 E) -60

38. 4 tane 3^n sayısının çarpımı, 27 tane 3^{n+3} sayısının toplamına eşit olduğuna göre, $\left(\frac{1}{4}\right)^n$ ifadesinin eşiti kaçtır?

- A) 32 B) 16 C) 4 D) $\frac{1}{2}$ E) $\frac{1}{4}$

39. $\sqrt{2x^2+7}-3=x-5$ denkleminin çözüm kümesi aşağıdakilerden hangisidir?

- A) $\{-3\}$ B) $\{-1\}$ C) \emptyset
D) $\{1\}$ E) $\{-3, -1\}$

40. $a + \frac{1}{a-2} = 8$

olduğuna göre, $a - \frac{1}{a-2}$ ifadesinin pozitif değeri kaçtır?

- A) $2+4\sqrt{2}$ B) $3+2\sqrt{2}$ C) $4+2\sqrt{2}$
D) 8 E) $2+8\sqrt{3}$

41. 35 kişilik bir grupta; 3 kişi 10 yaşında, 5 kişi 12 yaşında, 12 kişi 15 yaşında ve 15 kişi 16 yaşındadır.

Buna göre, bu gruptan yaşlarının ortalaması 15 olacak şekilde en fazla kaç kişi seçilebilir?

- A) 16 B) 20 C) 24 D) 30 E) 32

42. 10 işçi günde 6 saat çalışarak bir işin % 60'ını 4 günde bitirebilmektedir.

İşçi sayısı % 50 azaltılır, günlük çalışma süresi $\frac{2}{3}$ 'ü

kadar artırılırsa, bu işin tamamı kaç günde biter?

- A) 8 B) 9 C) 10 D) 12 E) 15

43. - 44. soruları aşağıdaki bilgilere göre cevaplayınız.

Ardışık terimlerinin arasındaki farkların sabit olduğu diziye 1. dereceden aritmetik dizi denir. Ardışık terimlerinin arasındaki farkların 1. dereceden aritmetik dizi oluşturduğu dizilere ise 2. dereceden aritmetik dizi denir.

Örneğin, 3 8 13 18 23 dizisinin ardışık terimlerinin arasındaki farklar sabit olduğundan bu dizi 1. dereceden aritmetik dizidir.

4 7 15 28 46 69 dizisinin ardışık terimlerinin arasındaki farklar 3 8 13 18 23 şeklinde 1. dereceden bir aritmetik dizi olduğu için, bu diziye 2. dereceden aritmetik dizi denir.

43. 5 11 17 x y 35 z dizisi 1. dereceden aritmetik dizi olduğuna göre, x + y + z toplamı kaçtır?

- A) 84 B) 90 C) 93 D) 95 E) 99

44. 2 6 13 23 36 52 dizisi 2. dereceden aritmetik dizi olduğuna göre, bu dizinin 7. terimi kaçtır?

- A) 62 B) 65 C) 68 D) 71 E) 93

45. Ardışık iki tam sayının karelerinin toplamı şeklinde yazılabilen sayılara "kuvvetli sayı" denir.

Örneğin, $1^2 + 2^2 = 5$ olduğundan 5 sayısı bir kuvvetli sayıdır.

Buna göre, aşağıdakilerden hangisi kuvvetli sayı değildir?

- A) 1 B) 13 C) 25 D) 85 E) 222

46. Ceren parasının $\frac{1}{4}$ 'ü ile kalem, $\frac{3}{7}$ 'si ile defter, geri kalanı ile kitap alıyor.

Ceren'in deftere ödediği para, kitaba ödediği paradan 30 TL fazla olduğuna göre, kaleme ödediği para kaç liradır?

- A) 60 B) 70 C) 72 D) 74 E) 84

47. Sevgi merdivenleri 2'şer 2'şer çıkıp, 3'er 3'er iniyor.

Sevgi'nin çıkarken attığı adım sayısı, inerken attığı adım sayısının 2 katından 5 eksik olduğuna göre, merdiven kaç basamaklıdır?

- A) 30 B) 32 C) 33 D) 35 E) 36

48. Bir kitaplıktaki kitapların % 40'ı roman, % 25'i ders kitabı, geri kalanları ise ansiklopedidir. Roman kitaplarının sayısının % 10'u ile ders kitaplarının sayısının % 20'sinin toplamı 27'dir.

Buna göre, bu kitaplıkta kaç tane ansiklopedi vardır?

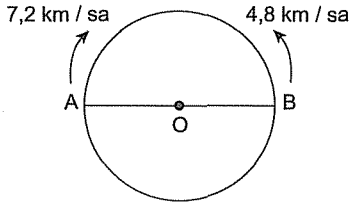
- A) 96 B) 100 C) 105 D) 120 E) 144

49. Bir ürünün % 18 KDV'li satış fiyatı 236 liradır. Bu ürünün satış fiyatına, KDV'siz satış fiyatı üzerinden % 20 indirim uygulanıyor.

Buna göre, bu ürünün satış fiyatı kaç lira olmuştur?

- A) 192 B) 196 C) 200 D) 210 E) 216

50.

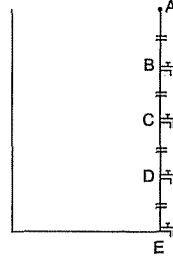


Şekildeki $[AB]$ çaplı dairesel pistin çevresi 2400 metredir. Şekildeki gibi A ve B noktalarından saatteki hızları 7,2 km ve 4,8 km olan iki araç, aynı anda okla gösterilen yönlerde hareket ediyor.

Buna göre, bu araçlar hareket ettikten kaç dakika sonra üçüncü kez karşılaşır?

- A) 20 B) 24 C) 25 D) 30 E) 45

51.



Şekildeki havuzda $|AB| = |BC| = |CD| = |DE|$ 'dir. Aynı anda açılan özdeş dört musluk, şekildeki gibi B, C, D ve E noktalarına yerleştirilerek tamamen dolu olan havuzun içindeki suyu 50 saatte boşaltabilmektedir.

Buna göre, E noktasındaki musluk tek başına açılırsa, bu havuzdaki suyun tamamını kaç saatte boşaltabilir?

- A) 64 B) 72 C) 80 D) 92 E) 96

52. Bir satıcı bir ürünün $\frac{1}{4}$ 'ünü % 60 kârla, kalanını ise % 80 kârla satıyor.

Buna göre, bu satıcının, ürünün tamamının satışından elde ettiği kâr yüzdesi kaçtır?

- A) 75 B) 72 C) 70 D) 68 E) 64

53. Şeker oranı % 30 olan A gram şekerli su karışımı, şeker oranı % 10 olan B gram şekerli su karışımına ilave ediliyor.

A < B olduğuna göre, elde edilen yeni karışımın şeker oranının yüzdesi aşağıdakilerden hangisi olabilir?

- A) 19 B) 20 C) 22 D) 23 E) 24

54. Gerçek sayılarda tanımlı bir f fonksiyonu $2f(x) - 3f(-x) = 2x + 4$ şeklinde veriliyor.

Buna göre, $f(1)$ ifadesinin eşiti kaçtır?

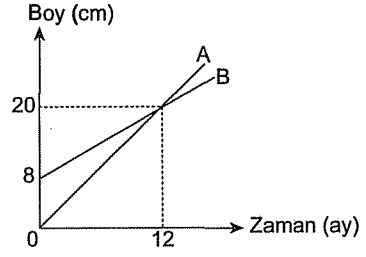
- A) -2 B) $-\frac{14}{5}$ C) -3 D) $-\frac{18}{5}$ E) -4

55. Bir doktor 6 günde bir, hemşire ise 4 günde bir nöbet tutmaktadır.

İkisi birlikte 3. nöbetlerini çarşamba tuttuklarına göre, yine birlikte 8. nöbetlerini hangi gün tutarlar?

- A) Çarşamba B) Perşembe C) Cuma
D) Cumartesi E) Pazar

56. - 57. soruları aşağıdaki grafiğe göre cevaplayınız.



Şekildeki doğrusal grafik, A ve B bitkilerinin dikildikten sonraki boylarının zamana bağlı değişimlerini göstermektedir.

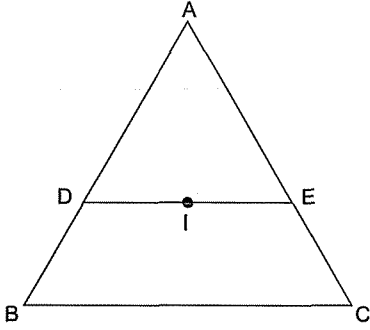
56. B bitkisinin boyu kaçınıcı ayın sonunda 23 cm olur?

- A) 14 B) 15 C) 16 D) 18 E) 20

57. 36. ayın sonunda A ve B bitkileri arasındaki boy farkı kaç cm olur?

- A) 10 B) 12 C) 16 D) 18 E) 20

58.



ABC bir üçgen

 $[DE] \parallel [BC]$

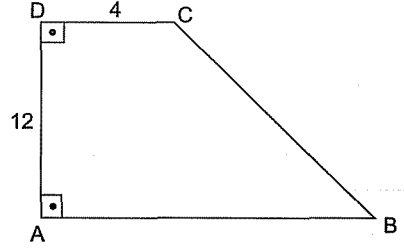
I noktası ABC üçgeninin iç teğet çemberinin merkezidir.

 $|AB| = 9$ birim $|AC| = 12$ birim

olduğuna göre, ADE üçgeninin çevresi kaç birimdir?

- A) 18 B) 20 C) 21 D) 24 E) 25

59.



ABCD dik yamuk

 $[AB] \parallel [DC]$ ve $|AB| = |BC|$ dir. $|AD| = 12$ cm $|DC| = 4$ cmolduğuna göre, ABCD yamuğunun alanı kaç cm^2 dir?

- A) 120 B) 128 C) 140 D) 144 E) 180

Cuzman kariyer

60. Analitik düzlemde $2x + 3y - 5 = 0$ doğrusuna paralel olan ve $(-1, 2)$ noktasından geçen doğrunun y eksenini kestiği noktanın ordinatı kaçtır?

- A) 1 B) $\frac{4}{3}$ C) $\frac{5}{3}$ D) 2 E) 3

1. Bu testte 60 soru vardır.

2. Cevaplarınızı, cevap kâğıdının Genel Kültür Testi için ayrılan kısmına işaretleyiniz.

1. İslamiyet öncesi Türk devletlerinde hükümdarlık sembolleri arasında aşağıdakilerden hangisi yer almaz?

- A) Tuğ B) Yay - ok C) Tamga
D) Çetr E) Nevbet

2. Selçuklu Devleti Osmanlı Devleti'nden sonraki en geniş sınırlara ulaşan ve en güçlü Türk İslam devleti olmuştur. Selçuklu Devleti'nden sonra kurulan birçok Türk İslam devleti kurumlarında ve işleyişinde Selçukluları takip etmiştir.

Bu bilgiye göre, aşağıdaki devletlerden hangisinin Selçukluları örnek aldığı söylenemez?

- A) Harzemşahlar
B) Memlûkler
C) Osmanlılar
D) Akkoyunlular
E) Gazneliler

3. Anadolu Selçuklu Devleti ile ilgili bilgilere aşağıda verilen seyyahlardan hangisinin eserlerinde rastlanabilir?

- A) İbn-i Havkal
B) İbn-i Bibi
C) İbn-i Fadlan
D) İbn-i Haldun
E) İbn-i Mesut

4. 15.yy.da Amasya'da doğmuş bu bilgin Mücerrebname ve Cerrahiyyet'ül Haniyye adlı tıbbi eserleri kaleme almıştır. Osmanlı padişahı II. Mehmet'in de takdirini kazınmış olan bu bilgin plastik cerrahinin de kurucusu sayılmıştır.

Merve Öğretmen'in, öğrencilerine özelliklerini anlattığı bilim insanı aşağıdakilerden hangisidir?

- A) Sabuncuoğlu Şerafeddin
B) Kadızade Rumi
C) Altunizade
D) Akşemseddin
E) Ayaşlı Şifai

5. İcadının Çin'de yapıldığı varsayılan matbaa, Uygur Türkleri tarafından ilk kez kullanılmış olup Türk İslam devletlerinde Osmanlı da dâhil olmak üzere çok rağbet görmemiştir.

Osmanlı Devleti'nde matbaanın kullanımı ve gelişimi ile ilgili aşağıdaki ifadelerden hangisi doğru değildir?

- A) II. Bayezid Dönemi'nde bazı azınlıklar matbaayı kullanmıştır.
B) Avrupa menşeli mekânîk matbaa Osmanlı Devleti'nde 18.yy.da kullanılmıştır.
C) Devlet eliyle ilk matbaa III. Ahmet Dönemi'nde açılmıştır.
D) Avrupa tarzı matbaayı İbrahim Müteferrika Türklerle tanıtmıştır.
E) Matbaanın kullanımına şeyhülislam ve hattatlar karşı çıkmıştır.

6. IV. Mehmet Dönemi'nde cülus bahşişi dağıtabilmek için ilk kez toplanan avarız vergisi gibi afet, salgın ve isyan gibi olağanüstü zamanlarda da toplanan vergi aşağıdakilerden hangisidir?

- A) Cerime B) Amediye C) İhtisap
D) İmdadiye E) Cizye

7. Osmanlı Devleti'nde başlayan bozulmaları düzeltmek için 17.yy.da başlayan ve devletin yıkılışına kadar süren düzeltme çalışmalarına "ıslahat" denilmiştir.

Islahatlara konu olan ilk Osmanlı kurumu aşağıdakilerden hangisidir?

- A) Tımarlı Sipahi Ordusu
B) Hazine-i Amire
C) Kapıkulu Ordusu
D) Divan-ı Hümayun
E) Donanma-yı Hümayun

8. Aşağıda verilen olaylardan hangisinden sonra Osmanlı ordu teşkilatı içerisinde "Kırım süvarileri" yer almamaya başlamıştır?

- A) Çeşme Baskını
- B) Prut Savaşı
- C) Belgrad Antlaşması
- D) Küçük Kaynarca Antlaşması
- E) Aynalıkavak Tenkihnamesi

9. Osmanlı Devleti'nin en modernist hükümdarı olan II. Mahmut Dönemi'nde birçok ilk niteliğinde ıslahat yapılmıştır. Bu dönem isyanların ve savaşların da yoğun yaşandığı bir dönem olmuştur.

Aşağıdakilerden hangisinin bu döneme ait gelişmelerden biri olduğu söylenemez?

- A) Tanzimat Fermanı'nın hazırlanması
- B) Mısır Valisi Kavalalı Mehmet Ali Paşa'nın isyan etmesi
- C) İlk Rum isyanlarının Eflak'ta başlaması
- D) İlk Sırp isyanlarının Kara Yorgi öncülüğünde başlaması
- E) Balta Limanı Ticaret Antlaşması'nın imzalanması

10. 93 Harbi yenilgisini ve Ayastefanos Antlaşması'nı içine sindiremeyip kurduğu gizli örgüt ile Rumeli göçmenlerini etrafında toplayan Çırağan Sarayı'nda gözetim altında tutulan V. Murat'ı yeniden tahta çıkarmaya çalışan Meşrutiyet yanlısı Osmanlı aydını aşağıdakilerden hangisidir?

- A) Ali Suavi
- B) Ziya Paşa
- C) Mithat Paşa
- D) Beşir Fuat
- E) İbrahim Temo

11. Osmanlı Devleti'ni Avrupa kaynaklı ayrılıkçı fikirlerle karşı korumayı amaçlayan diğer adı "İttihad-ı Anasır" olan fikir akımı aşağıdakilerden hangisidir?

- A) Ümmetçilik
- B) Batıcılık
- C) Osmanlıcılık
- D) Turancılık
- E) Adem-i Merkeziyetçilik

12. Dobruca ve Silistre'nin işgal edilmesi üzerine II. Balkan Savaşı'na katılan devlet aşağıdakilerden hangisidir?

- A) Karadağ
- B) Sırbistan
- C) Yunanistan
- D) Osmanlı
- E) Romanya

13.

- I. Ardahan
- II. Kars
- III. İzmir
- IV. Hatay

Osmanlı Devleti'nin yukarıda verilen illerden hangilerinin işgalden kurtarılmasında etkili olduğu söylenemez?

- A) I ve II
- B) II ve III
- C) III ve IV
- D) I, II ve III
- E) I, II, III ve IV

14. I. Dünya Savaşı'nı bitiren aşağıdaki antlaşmalardan hangisi diğerlerinden daha önce imzalanmıştır?

- A) Rethonders Mütarekesi
- B) Mondros Mütarekesi
- C) Villa Gusti Antlaşması
- D) Trianon Antlaşması
- E) Selânik Antlaşması

15. Yunan ordusu 15 Mayıs 1919'da İzmir'i işgale başlamıştır. İşgalin ilk anlarından itibaren Yunan ordusu mezalime başlamıştır.

Yunan başkomutanı lehine tezahürat yapmayı reddettiği için Yunan askerleri tarafından katledilen ilk Türk subayı aşağıdakilerden hangisidir?

- A) Albay Refet Bele
- B) Albay Süleyman Fethi
- C) Albay Ali Çetinkaya
- D) Albay Kâzım Dirik
- E) Albay Cevdet Giritli

16. "I. Dünya Savaşı'nda savaşan devletlerin içinde bulundukları şartları göz önüne alarak savaştan sonra uyulması gereken kuralları belirlemiş insanlığın daha fazla zarar görmeden barış içinde yaşamasını öngörmüştür."

Hakkında bilgiler verilen belge aşağıdaki devlet adamlarından hangisi tarafından hazırlanmıştır?

- A) Venizelos
- B) Lenin
- C) Wilson
- D) Churchill
- E) Lloyd George

17. Osmanlı Devleti adına 10 Ağustos 1920'de Sevr Barış Antlaşması'nı imzalamaları için Fransa'ya:

- I. Rıza Tevfik
- II. Reşat Halis
- III. Refet Bele

gibi isimlerden hangileri gönderilmiştir?

- A) Yalnız III
- B) I ve II
- C) I ve III
- D) II ve III
- E) I, II ve III

18. Aşağıdakilerden hangisi Milli Mücadele'yi destekleyen yayınlardan biri değildir?

- A) Hadisat
- B) İkdam
- C) Aydede
- D) Ahali
- E) Emel

19. Mustafa Kemal Paşa'nın 24 Nisan 1920'de TBMM'de yaptığı konuşmada "Anadolu'nun ortasındaki güvenlik sorununu çözmeye memur kuvvetlerin bir komuta altında birleştirilmesi" gerektiğini işaret ederek kurulmasını sağladığı Doğu'da Ermeni ve Pontus Rumları ile mücadele eden silahlı teşkilat aşağıdakilerden hangisidir?

- A) Kuvayımilliye
- B) Kuva-yı Muhammediye
- C) Kuva-yı Seyyare
- D) Anadolu ve Rumeli Müdafaa-i Hukuk Cemiyeti
- E) Merkez Ordusu

20. Programında, "Kadınlara siyasal haklar verilmesi" ilkesinin yer aldığı ilk siyasi parti aşağıdakilerden hangisidir?

- A) Halk Fırkası
- B) Terakkiperver Cumhuriyet Fırkası
- C) İttihat Terakki Fırkası
- D) Serbest Cumhuriyet Fırkası
- E) Ahali Cumhuriyet Fırkası

21. Şeyhlik, dervişlik, dedelik, seyitlik, müridlik, çelebilik, babalık ve türbedarlık gibi unvan ve lakaplar aşağıdakilerden hangisi ile kaldırılmıştır?

- A) Tevhid-i Tedrisat Kanunu
- B) Medreselerin Kapatılması Kanunu
- C) Şapka Kanunu
- D) Tekke, Zaviye ve Türbelerin Kapatılması Kanunu
- E) Soyadı Kanunu

22. "Savaş, zorunlu ve hayati olmalıdır. Milleti savaşa getirince vicdanımda acı duymamalıyım. Öldüreceğiz diyenlere karşı ölmeyeceğiz, diye savaşa girebiliriz. Lakin millet hayatı tehlikeye düşmedikçe savaş bir cinayettir."

Mustafa Kemal Atatürk'ün, bu sözleriyle en fazla aşağıdaki ilkelerden hangileri vurgulanmıştır?

- A) Cumhuriyetçilik - Laiklik
- B) Laiklik - Milliyetçilik
- C) Cumhuriyetçilik - Milliyetçilik
- D) Milliyetçilik - Halkçılık
- E) Halkçılık - Laiklik

23. Atatürk'ün 1936'da TBMM'nin açılış konuşmasında; "Bu sırada milletimizi gece gündüz meşgul eden başlıca mesele asıl sahibinin Türkler olduğu bu topraklardır. Bunun üzerinde ciddiyet ve katıyetle durmaya mecburuz. Daima kendisiyle dostluğa çok ehemmiyet verdiğimiz Fransa ile aramızdaki tek mesele budur." diyerek vurguladığı mesele aşağıdakilerden hangisidir?

- A) Wagon - Li Olayı
- B) Musul Sorunu
- C) Hatay Sorunu
- D) Boğazlar Sorunu
- E) Dış Borçlar

24. 1925'te başlayan ve Cumhuriyet rejimine ve laik düzene karşı çıkan Şeyh Said İsyanı nedeniyle başbakanlıktan istifa eden dönemin hükümet başkanı aşağıdakilerden hangisidir?

- A) Ali Fuat Cebesoy
- B) Ali Fethi Okyar
- C) İsmet İnönü
- D) Kâzım Karabekir
- E) Celâl Bayar

25. 1936'daki "Modern Zamanlar" filminde makineleşme ve çalışma şartlarını eleştiren, "Büyük Diktatör" filminde ise Adolf Hitleri eleştiren dünyaca ünlü aktör aşağıdakilerden hangisidir?

- A) George Clooney
- B) Sophia Loren
- C) Charlie Chaplin
- D) Robert Mitchum
- E) Marlon Brando

26. Almanya'nın II. Dünya Savaşı'nda işgal ettiği ülkeler arasında:

- I. Yunanistan
- II. Bulgaristan
- III. Romanya
- IV. Yugoslavya

devletlerinden hangileri yer almaktadır?

- A) I ve II
- B) I ve IV
- C) II ve III
- D) I, II ve III
- E) II, III ve IV

27. ABD'nin hazırladığı "Marshall Planı" kapsamında mali ve askerî yardım almayan devlet aşağıdakilerden hangisidir?

- A) Türkiye
- B) Yunanistan
- C) İsveç
- D) Federal Almanya
- E) Macaristan

28.

I. 36° Doğu Meridyeni - 45° Kuzey Paraleli

II. 33° Doğu Meridyeni - 41° Kuzey Paraleli

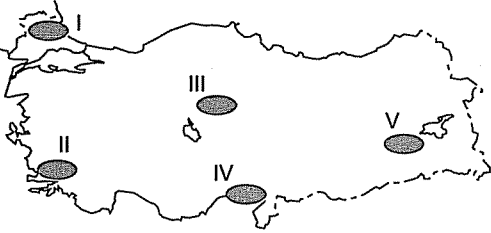
III. 30° Doğu Meridyeni - 37° Kuzey Paraleli

IV. 27° Doğu Meridyeni - 33° Kuzey Paraleli

Yukarıda verilen coğrafi koordinat sistemlerinin kesiştiği bölgelerden hangileri Türkiye sınırları içerisinde yer almaz?

- A) Yalnız I B) I ve II C) I ve III
D) I ve IV E) II ve III

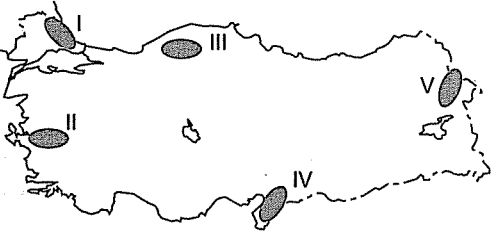
29. I. jeolojik zamanda oluşmuş eski kütlelere masif adı verilmektedir. Türkiye'de bu dönemde oluşmuş masif arazilere rastlanmaktadır.



Buna göre, yukarıdaki haritada verilen taralı alanlardan hangisi masif araziler arasında gösterilemez?

- A) I B) II C) III D) IV E) V

30. Türkiye'de dağların oluşumunda kırılma, kıvrılma ve volkanik faaliyetler etkili olmuştur.



Haritadaki dağ sıraları oluşumlarına göre gruplandırılırsa hangisinin oluşumunda diğerlerinden farklı bir faaliyet etkili olmuştur?

- A) I B) II C) III D) IV E) V

31. Yıl boyunca Güneş ışınlarını yaklaşık aynı açıyla almasına karşın yaz aylarında Şanlıurfa'nın Antalya'dan daha sıcak olmasında aşağıdakilerden hangisinin etkisi yoktur?

- A) Karasallık
B) Denize olan uzaklık
C) Basra alçak basıncının etkisi
D) Güneyden etkili olan rüzgârlar
E) Ekvator'a olan uzaklık

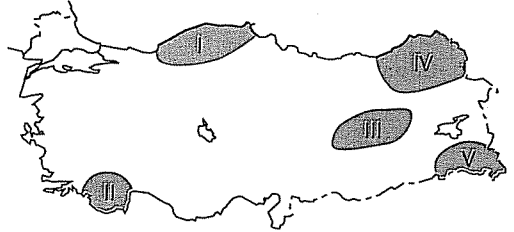
32.

- * Göller Yöresi'nin büyük gölleri arasındadır.
- * Biyolojik tür çeşitliliği bakımından zengindir.
- * Gölde yetiştirilen kerevit ve sudaki balık üretimi ihracatta önemli bir yere sahiptir.
- * Sularını gideğeni sayesinde Kovada Gölü'ne boşaltmaktadır.

Buna göre, yukarıda verilen özelliklere sahip gölümüz aşağıdakilerden hangisidir?

- A) Abant Gölü
B) Yedigöller
C) Eğirdir Gölü
D) Manyas Gölü
E) Burdur Gölü

33.



Yukarıdaki haritada numaralarla gösterilen alanlardaki akarsular denge profiline ulaşmamıştır.

Buna göre, numaralandırılmış bölgelerle ilgili aşağıdaki özelliklerden hangisi bu durum ile çelişmektedir?

- A) I numaralı bölgede derine aşındırmanın devam etmesi
B) II numaralı bölgede akarsuların akış hızının fazla olması
C) III numaralı bölgede akarsuların hidroelektrik enerji potansiyellerinin yüksek olması
D) IV numaralı bölgede akarsuların yüklerinin düşük olması
E) V numaralı bölgede akarsuların vadilerinin genellikle çentik vadi şeklinde olması

34. Türkiye'nin endemik bitki türleri bakımından zengin olmasında aşağıdakilerden hangisinin etkisi olmuştur?

- A) Türkiye'nin 26° - 45° Doğu meridyenleri arasında yer alması
- B) Geçmiş jeolojik dönemlerdeki iklim değişikliklerinden etkilenmesi
- C) Yükseltinin batıdan doğuya doğru artması
- D) Genç oluşumlu bir yapıya sahip olması
- E) Ekvator'un kuzeyinde yer alması

35. Nüfusun cinsiyet durumunu sosyal, ekonomik ve askerî yapı etkilemektedir.

İller	Erkek Nüfus	Kadın Nüfus	Nedeni
İstanbul	7.221.158	7.155.860	Göç alır.
Afyonkarahisar	350.370	356.001	I
Rize	163.003	166.776	Göç verir.
Kocaeli	872.403	850.392	II
Kırklareli	663.249	659.127	III

Buna göre, yukarıda verilen kadın - erkek cinsiyet oranının farklı olmasında numaralandırılmış kısımlara aşağıdakilerden hangi seçenek getirilirse doğru olur?

- | | <u>I</u> | <u>II</u> | <u>III</u> |
|----|---------------|---------------|---------------|
| A) | Göç alır | Göç verir | Askerî birlik |
| B) | Göç verir | Askerî birlik | Göç alır |
| C) | Göç verir | Göç alır | Askerî birlik |
| D) | Göç alır | Göç verir | Göç alır |
| E) | Askerî birlik | Göç alır | Göç alır |

36. Türkiye, 557 sayılı Nüfus Planlaması Kanunu'yla birlikte nüfus politikalarının netleştiği bir döneme girmiştir.

Buna göre, aşağıda verilen nüfus planlamalarındaki teşvik ve önlemlerden hangisi 1960 yılı öncesi nüfus planlamaları arasında yer almaz?

- A) Aile planlaması ve anne - çocuk sağlık hizmetlerinin birlikte yürütülmesi
- B) Fakir vatandaşlara ücretsiz ilaç dağıtmak
- C) Göçleri teşvik etmek amacıyla göçmenlere gümrük muafiyetinin uygulanması
- D) Altı ve daha fazla çocuk sahibi annelerin madalya ile ödüllendirilmesi
- E) Çok çocuklu ailelere vergi muafiyetinin uygulanması

37. Türkiye'de çeltik üretim alanları genellikle delta ovaları ve taban seviyesi ovaları seçilmektedir.

Çeltik ekim alanlarının bu bölgelerde yoğunlaşmasının temel sebebi aşağıdakilerden hangisidir?

- A) Zirai ilaçlama
- B) Makine kullanımına uygunluk
- C) Olgunlaşması için yeterli sıcaklık
- D) Su kaynaklarına yakınlık
- E) Ucuz iş gücü imkânı

38. Türkiye'de sanayi kuruluşlarının % 50'den fazlası Marmara Bölgesi'nde bulunmaktadır.

Bu durumun ortaya çıkmasında;

- I. Ulaşım imkânlarının elverişli olması
- II. Ham madde kaynaklarının fazla olması
- III. Pazar alanının geniş olması
- IV. İklim koşullarının elverişli olması
- V. Nitelsiz iş gücünün fazla olması

yukarıda verilenlerden hangileri etkili olmamıştır?

- A) I ve II
- B) I ve III
- C) II ve IV
- D) II ve V
- E) II, IV ve V

39. Türkiye'de farklı iklim tiplerinin etkili olması ve bitki örtüsünün çeşitlilik göstermesi aşağıdaki hayvancılık türlerinden hangisinin öncelikle gelişmesini sağlamıştır?

- A) Arıcılık
- B) Balıkçılık
- C) Büyükbaş hayvancılık
- D) Küçükbaş hayvancılık
- E) İpek böcekçiliği

40. Türkiye'de son yıllarda temiz enerji üretimi ve enerjide dışa bağımlılığı azaltabilmek amacıyla birçok bölgemize barajlar inşa edilmiş ve edilmeye de devam etmektedir.

Buna göre, aşağıdaki barajlardan hangisi diğerlerinden farklı bir akarsu havzası sınırlarında bulunmaktadır?

- A) Atatürk Barajı
- B) Birecik Barajı
- C) Karkamış Barajı
- D) Karakaya Barajı
- E) Ilısu Barajı

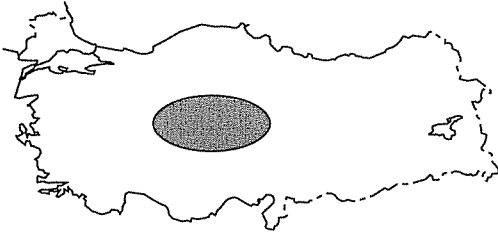
41.

- I. Petrol
- II. Doğal gaz
- III. Taş kömürü
- IV. Asfaltit
- V. Linyit

Yukarıda verilen fosil kaynakların Türkiye'de rezerv bakımından sırasıyla en az ve en fazla olanı aşağıdaki seçeneklerin hangisinde doğru olarak verilmiştir?

- A) I ve V
- B) II ve III
- C) II ve V
- D) V ve II
- E) V ve IV

42.



Yukarıdaki haritada taralı bölge ile ilgili verilen bilgilerden hangisi yanlıştır?

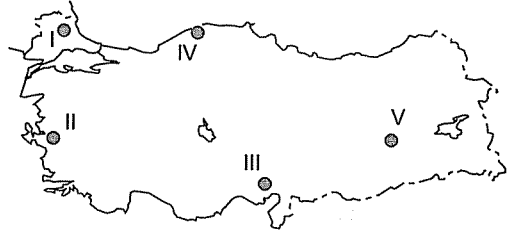
- A) Gerçek sıcaklık ile indirgenmiş sıcaklık farkı en az olan bölgedir.
- B) Bitki örtüsü stepdir.
- C) Artezyen kaynak kullanımı sonucu obruklar oluşmaktadır.
- D) Toprak ve rüzgâr erozyonu yaygındır.
- E) Gerçek alan ile izdüşüm alan farkı azdır.

43. Giriş kapısı, fetih yolu, mescit, merasim alanı, toplanma ve ikram alanı, namazgâh, helikopter pisti, etnospor alanı, otopark, Türk tarihi temalı sosyal yaşam alanı, turan taktığı ve cenk meydanı, anıt, ziyaretçi tanıtım merkezi, müze ve minyatür, rekreasyon alanı ile idari bina gibi yapıların yer alacağı bir millî parktır.

Yukarıda bilgileri verilen 17 Mart 2018 yılında resmî gazetede ilan edilen 43. millî parkımız aşağıdakilerden hangisidir?

- A) Yozgat Çamlığı Millî Parkı
- B) Nene Hatun Millî Parkı
- C) Sarıkamış - Allahuekber Dağları Millî Parkı
- D) Malazgirt Meydan Muharebesi Tarihi Millî Parkı
- E) Kop Dağı Müdafaası Tarihi Millî Parkı

44. Türkiye'de yazları sıcak ve bunaltıcı geçen bölgelerde sayfiye veya dinlenme amaçlı yaylacılık faaliyetleri giderek artmaktadır.



Bu tür yaylacılık faaliyetleri yukarıdaki haritada işaretlenmiş yörelerden hangisinde daha fazla bulunmaktadır?

- A) I
- B) II
- C) III
- D) IV
- E) V

45. Aşağıdaki şehirlerin hangisinde kara yolu, demir yolu ve hava yolu gibi ulaşım imkânlarının tamamı bir arada bulunmaz?

- A) İzmir
- B) Zonguldak
- C) Trabzon
- D) Samsun
- E) Tekirdağ

46. Devletin sunduğu bayındırlık hizmetleri sebebiyle gayrimenkullerinin değeri artan kişilerden katılma payı olarak aldığı paraya ne ad verilir?

- A) Vergi
- B) Şerefiye
- C) Resim
- D) Harç
- E) Parafiskal gelir

47. Ev sahibi Pınar Hanım kiracısının kendisine ödemediği kira bedeline karşılık alacağını güvence altına almak için kiracısının eşyası üzerinde hapis hakkına sahip olmasına ne ad verilir?

- A) Kuvvet kullanma
- B) Meşru müdafaa
- C) Zaruret hali
- D) Hukuki fiil
- E) Haksız savunma

48. Aşağıdakilerden hangisi kişinin kısıtlılık sebepleri arasında yer almaz?

- A) Akıl hastalığı veya akıl zayıflığı
- B) Savurganlık, alkol veya uyuşturucu bağımlılığı
- C) Bir yıl veya üzeri özgürlüğü kısıtlayıcı ceza alma
- D) Kötü yaşam tarzı
- E) Yaş küçüklüğü

49. Ozan ile abisi Hasan'ın kızı Eylül arasındaki hısımlığın türü ve derecesi ile ilgili aşağıdaki bilgilerden hangisi doğrudur?

- A) 2. derece tam kan yansoy hısımlığı
- B) 3. derece tam kan üstsoy - altsoy hısımlığı
- C) 3. derece tam kan yansoy hısımlığı
- D) 4. derece yarım kan yan soy hısımlığı
- E) 3. derece yarım kan yan soy hısımlığı

50. Yarı doğrudan demokrasilerde halkın belli sayıda imza toplayarak belli bir konuda yasa çıkarması veya yasada değişiklik yapılması için yasama organını harekete geçirmesine ne ad verilir?

- A) Referandum
- B) Halk girişimi
- C) Halk vetosu
- D) Temsilcinin azledilmesi
- E) Temsilî demokrasi

51. Yasama, yürütme ve yargı fonksiyonları açısından kendi içerisinde belli bir özerkliğe sahip olan ancak; ortak bir anayasa altında birleşerek tek bir devlete tabi olan devletlerin oluşturduğu yapıya ne ad verilir?

- A) Üniter devlet
- B) Bölgeci devlet
- C) Monarşik devlet
- D) Oligarşik devlet
- E) Federal devlet

52. 1982 Anayasası'na göre, kanunlarla ilgili aşağıdaki bilgilerden hangisi yanlıştır?

- A) Kanunlar TBMM genel kurulunda kabul edilir.
- B) Kanun teklif etmeye yetkili kişi milletvekilidir.
- C) TBMM genel kuruluna sunulan öneriler öncelikle ilgili komisyonda görüşülür.
- D) Bir kanunun TBMM genel kurulunda kabul edilebilmesi için toplantıya katılanların salt çoğunluğunun oyu gerekir.
- E) TBMM genel kurulunda kabul edilen kanunları Cumhurbaşkanı 10 gün içerisinde Resmi Gazete'de yayımlar.

53. 1982 Anayasası'na göre, millî güvenliğin sağlanmasından ve silahlı kuvvetlerin yurt savunmasına hazırlanmasından aşağıdakilerden hangisi sorumludur?

- A) TBMM
- B) Genelkurmay Başkanı
- C) Millî Savunma Bakanı
- D) Cumhurbaşkanı
- E) İçişleri Bakanı

54.

- I. Kurul 13 üyeden oluşur.
- II. Kurul üç daire biçiminde çalışır.
- III. Kurulun Başkanı Adalet Bakanı'dır.
- IV. Kurulun 4 üyesini Cumhurbaşkanı, 7 üyesini TBMM seçer.

Yukarıdakilerden hangileri Hâkimler ve Savcılar Kurulu ile ilgili doğrudur?

- A) I ve II
- B) III ve IV
- C) I, II ve III
- D) I, III ve IV
- E) II, III ve IV

55. Ülkemizde 2019 - 2023 yılları arasında uygulanması düşünülen ayrıca içerisinde 2023 vizyon hedeflerini de bulunduran kalkınma planı Cumhuriyet tarihimizin kaçınıcı kalkınma planıdır?

- A) 9 B) 10 C) 11 D) 12 E) 13

56. Güneş sisteminde saat yönünde dönen tek gezegen aşağıdakilerden hangisidir?

- A) Merkür B) Plüton C) Uranüs
D) Jüpiter E) Venüs

57. Dünya'nın en büyük yanardağı olan "Tambora Yanardağı" hangi ülke sınırları içerisinde yer almaktadır?

- A) İsveç
- B) Hindistan
- C) Endonezya
- D) Şili
- E) İtalya

58. Türkiye'nin en büyük ve dünyanın ikinci büyük kanyonu aşağıdakilerden hangisidir?

- A) Ulubey Kanyonu
- B) Köprülü Kanyon
- C) Saklıkent Kanyonu
- D) Güver Kanyonu
- E) Valla Kanyonu


59. Ülkemizde ilk bilim tarihçisi olarak kabul edilen kişi aşağıdakilerden hangisidir?

- A) Aydın Sayılı
- B) Fuat Sezgin
- C) Ekmeleddin İhsanoğlu
- D) Abdülhak Adnan Adıvar
- E) Salih Zeki

60. Küçük kan dolaşımını ve akciğer dolaşımını keşfederek tıpta hastalıkların sebepleri üzerine çalışmalar yapan bilim insanı aşağıdakilerden hangisidir?

- A) İbn-i Sina
- B) İbn-i Haldun
- C) Harezmi
- D) İbn-i Nefis
- E) Ömer Hayyam

Kpss Kaynak Arşivi - Kpss Doküman Arşivi
<https://www.facebook.com/KpssKaynakArsivi>



uzmankariyer

ÖLÇME, DEĞERLENDİRME VE SINAV HİZMETLERİ

GENEL YETENEK - GENEL KÜLTÜR DENEME SINAVI 4 YANIT ANAHTARI

Genel Yetenek						Genel Kültür					
1.	A	21.	A	41.	E	1.	D	21.	D	41.	C
2.	B	22.	E	42.	A	2.	E	22.	D	42.	A
3.	A	23.	B	43.	C	3.	B	23.	C	43.	D
4.	E	24.	E	44.	D	4.	A	24.	B	44.	C
5.	A	25.	B	45.	E	5.	C	25.	C	45.	C
6.	B	26.	D	46.	B	6.	D	26.	B	46.	B
7.	C	27.	C	47.	A	7.	C	27.	E	47.	A
8.	A	28.	C	48.	C	8.	D	28.	D	48.	E
9.	B	29.	A	49.	B	9.	D	29.	D	49.	C
10.	A	30.	C	50.	D	10.	A	30.	E	50.	B
11.	C	31.	C	51.	E	11.	C	31.	E	51.	E
12.	C	32.	D	52.	A	12.	E	32.	C	52.	E
13.	B	33.	B	53.	A	13.	C	33.	D	53.	D
14.	B	34.	D	54.	D	14.	E	34.	B	54.	D
15.	D	35.	A	55.	E	15.	B	35.	C	55.	C
16.	D	36.	E	56.	B	16.	C	36.	A	56.	E
17.	C	37.	E	57.	C	17.	B	37.	D	57.	C
18.	A	38.	B	58.	C	18.	C	38.	D	58.	A
19.	D	39.	C	59.	D	19.	E	39.	A	59.	B
20.	E	40.	A	60.	B	20.	D	40.	E	60.	D